



**DOLNY
ŚLĄSK**



zDolny Ślązaczek

XII DOLNOŚLĄSKI KONKURS
DLA UCZNIÓW SZKÓŁ PODSTAWOWYCH

III ETAP – FINAŁ WOJEWÓDZKI

MATEMATYKA

TWÓJ KOD

Przepisz tutaj swój kod

14.01.2015 r., godz. 10⁰⁰
Czas trwania **60** minut

Podpis sprawdzającego

1	2	3	4	5	6	SUMA (max. 19 p.)

Kolejność rozwiązywania zadań jest dowolna. Rozwiązanie musi być umieszczone w wyznaczonych obszarach. Należy przedstawić pełne rozwiązanie zadania, a nie tylko wynik. Zapisy w brudnopisie nie będą brane pod uwagę.

Powodzenia!

Informacje do zadań 1, 2, 3.


CENNIK KARNETÓW CZASOWYCH 2014/2015 Stacja Narciarska Dwie Doliny Muszyna – Wierchomla SEZON 2014/2015

	KARNETY CZASOWE/ GODZINNE	ILOŚĆ GODZ	TOP SEZON FERIE 07.I - 01.III		Poza sezonem do 19.XII i od 02.III do końca sezonu	
			normalne	ulgowe	normalne	ulgowe
1.	Karnet 9.00-15	6 h	75 zł	70 zł	55 zł	X
2.	2 godzinny ruchomy	2 h	35 zł	X	35 zł	X
3.	4 godzinny ruchomy	4 h	65 zł	60 zł	50 zł	X
4.	6 godzinny ruchomy	6 h	80 zł	75zł	60 zł	50 zł


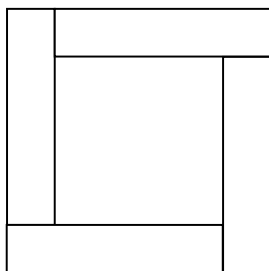
CENNIK KARNETÓW WIELODNIOWYCH SEZON 2014/2015

	KARNETY WIELODNIOWE	TOP SEZON FERIE 07.I - 01.III		Poza sezonem do 19.XII i od 02.III do końca sezonu	
		normalne	ulgowe	normalne	ulgowe
1.	2 dniowy	155 zł	135 z ł	115 z ł	X
2.	3 dniowy	225 zł	195 z ł	165 z ł	X
3.	4 dniowy	295 zł	255 z ł	215 z ł	X
4.	5 dniowy	365 zł	315 z ł	265 z ł	X
5.	6 dniowy	435 zł	375 z ł	315 z ł	X
6.	7 dniowy	505 zł	435 z ł	265 z ł	X

- Bilet ulgowy przysługuje dzieciom do 12 lat i osobom powyżej 60 roku życia na podstawie dokumentu.
- Dla grup powyżej 10 osób rabat 10%. Dla grup powyżej 35 osób rabat od 12% d o18%. (oferta dotyczy wyłącznie karnetów godzinowych)
- Karnet ruchomy – aktywowany na bramce, o dowolnej godzinie podczas pierwszego przejazdu
- X – Brak oferty



4. Tomek z czterech deseczek o wymiarach: długość 25 cm, szerokość 3 cm i grubość 1,5 cm każda, skleił ramkę jak na rysunku, w którą włożył zdjęcie z zimowych ferii. Przed włożeniem zdjęcia pomalował dwukrotnie całą ramkę na brązowo. Jaka była całkowita powierzchnia, którą pomalował Tomek? Zapisz wszystkie obliczenia i odpowiedź. (4 pkt.)



Przepisz tutaj swój kod

BRUDNOPIS

Uwaga, zapisy w brudnopisie nie będą sprawdzane.