



Karta pracy kl. 5

1. Oblicz w pamięci:

- a) $43 \cdot 1000 = \dots\dots\dots$ c) $24000 : 8 = \dots\dots\dots$ e) $2^3 = \dots\dots\dots$ g) $25 \cdot 4 \cdot 47 = \dots\dots\dots$
b) $800 \cdot 40 = \dots\dots\dots$ d) $56000 : 70 = \dots\dots\dots$ f) $6^2 = \dots\dots\dots$ h) $50 \cdot 39 \cdot 20 = \dots\dots\dots$

2. Uzupełnij zdania.

- a) Iloczyn liczby 12 i liczby o 4 mniejszej wynosi $\dots\dots\dots$.
b) Iloczyn liczby 7 i liczby 2 razy większej wynosi $\dots\dots\dots$.

3. Iga wykonała bransoletkę z 23 koralików.

Uzupełnij poniższe zdania. Wybierz odpowiedź spośród oznaczonych literami A i B oraz odpowiedź spośród oznaczonych literami C i D.

Do wykonania 8 takich bransoletek Iga potrzebuje .

- A. 184 koraliki B. 163 koraliki

Gdyby Iga chciała wykonać bransoletki składające się z 26 koralików, to do wykonania 8 takich bransoletek musiałaby użyć .

- C. 166 koralików D. 208 koralików

4. Uzupełnij równość.

$$2 \text{ kg} + \dots\dots\dots \text{ dag} + 317 \text{ g} = 4567 \text{ g}$$

5. **Uzupełnij poniższe zdania. Wybierz odpowiedź spośród oznaczonych literami A i B oraz odpowiedź spośród oznaczonych literami C i D.**

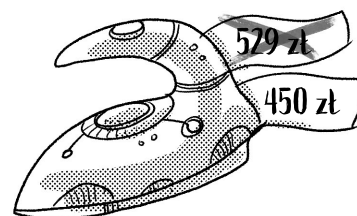
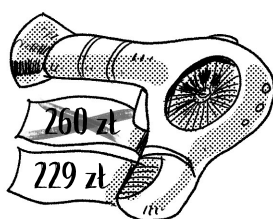
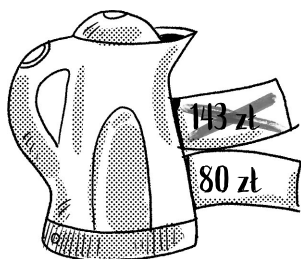
Suma $73 + 54 + 67$ jest równa .

- A. 184 B. 194

Różnica liczb 524 i 59 jest od sumy liczb 428 i 38.

- C. większa D. mniejsza

6. W sklepie *Nasz dom* trwa promocja i obniżono ceny niektórych towarów.



Oceń prawdziwość podanych zdań. Wstaw znak X w odpowiednie kratki.

Suszarka jest tańsza o 41 zł.

prawda fałsz

Zakup czajnika i żelazka w cenach promocyjnych pozwala zaoszczędzić łącznie 132 zł.

prawda fałsz